

2

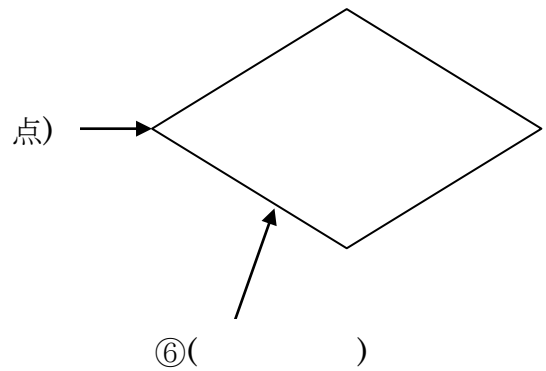
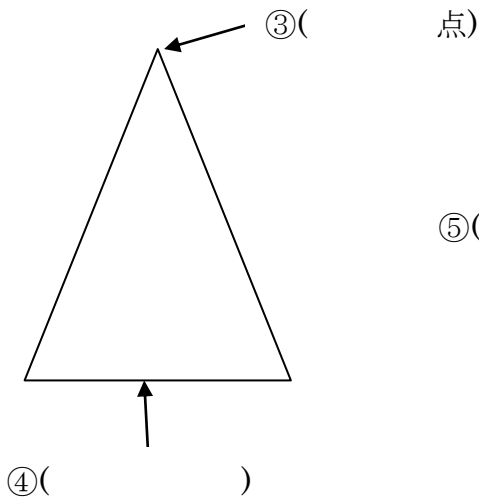
さんかくけい し かくけい 三角形と四角形(1)

ねん くみ ばん なまえ

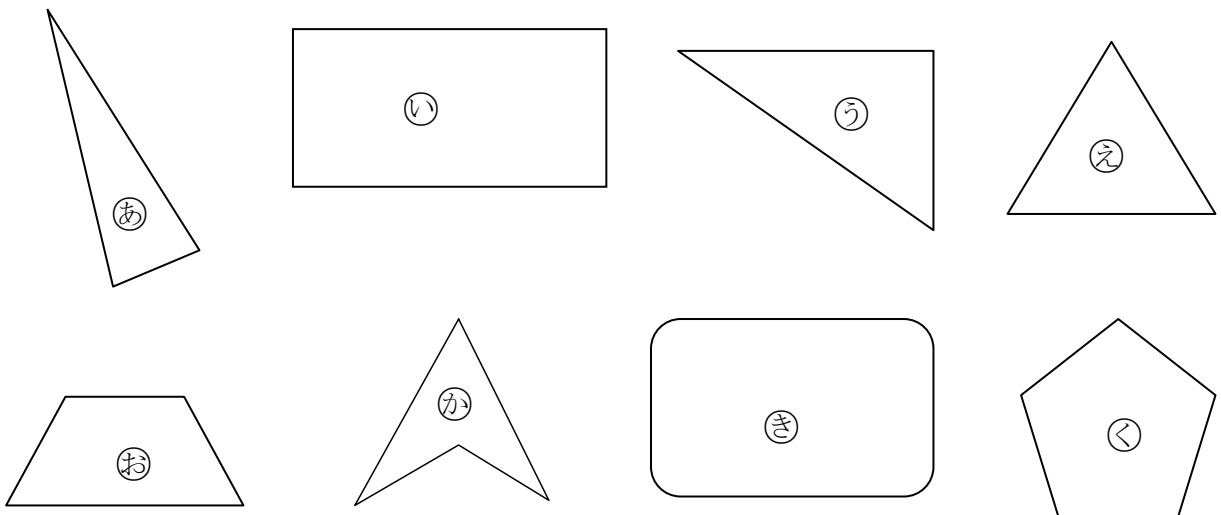
れんしゅう 1 ①～⑥の()にあてはまることばをかきましょう。

① 3本の直線ちよくせんでかこまれたかたちを()といいます。

② 4本の直線ちよくせんでかこまれたかたちを()といいます。



れんしゅう 2 下の㉠～㉤から、さんかくけい 三角形、し かくけい 四角形をえらんで下の()にきごうをかきましょう。



① さんかくけい 三角形 () ② し かくけい 四角形 ()