

2

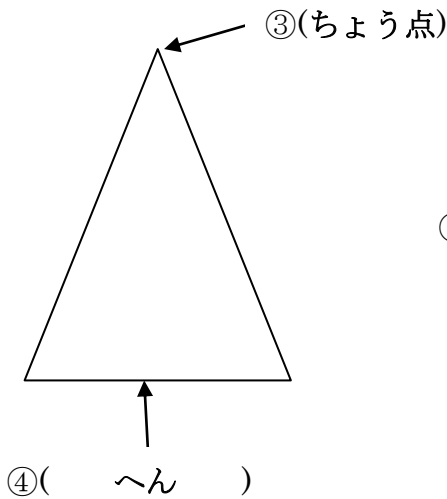
さんかくけい しかくけい 三角形と四角形(1)

ねん くみ ばん なまえ

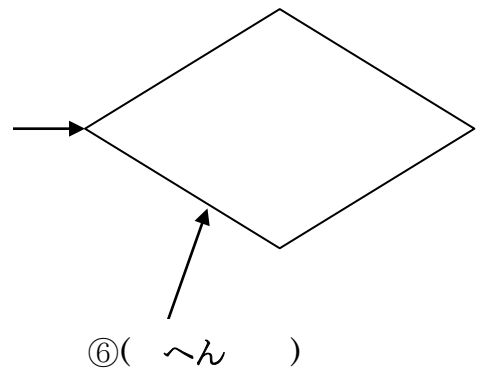
れんしゅう 1 ①～⑥の()にあてはまることばをかきましょう。

① 3本の直線ちよくせんでかこまれたかたちを(さんかくけい 三角形)といいます。

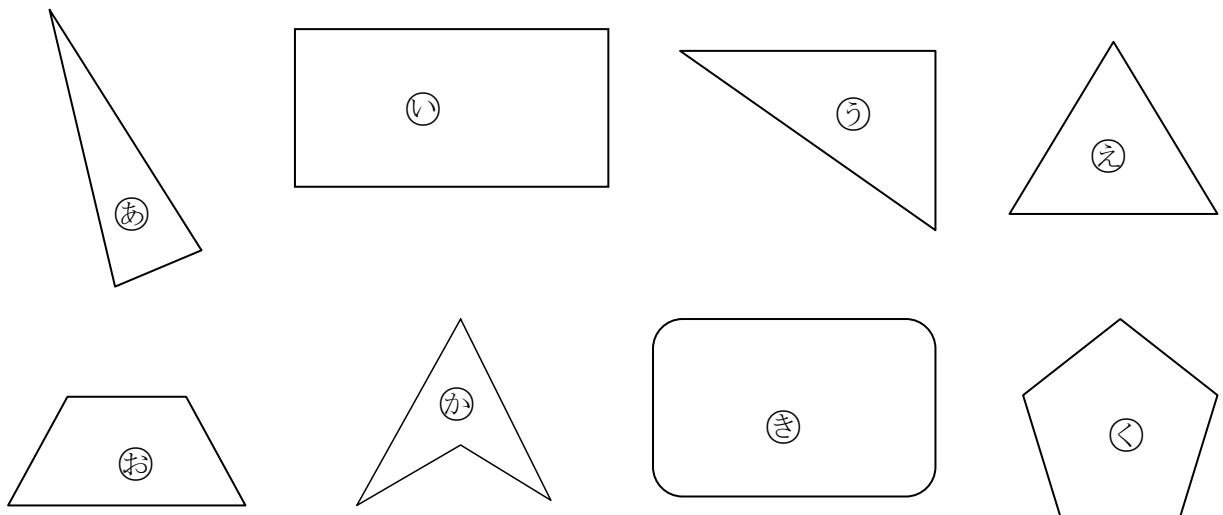
② 4本の直線ちよくせんでかこまれたかたちを(しかくけい 四角形)といいます。



⑤(ちょう点)



れんしゅう 2 下の㉠～㉤から、さんかくけい 三角形、しかくけい 四角形をえらんで下の()にきごうをかきましょう。



① さんかくけい 三角形 (㉠ ㉢ ㉣) ② しかくけい 四角形 (㉡ ㉦ ㉥)