

# 7

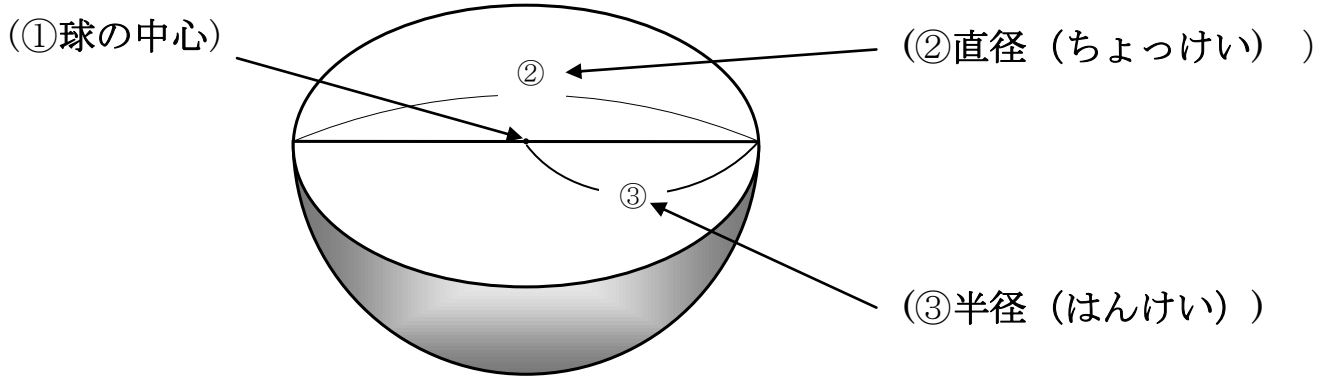
## 円と球(4)

→6へ

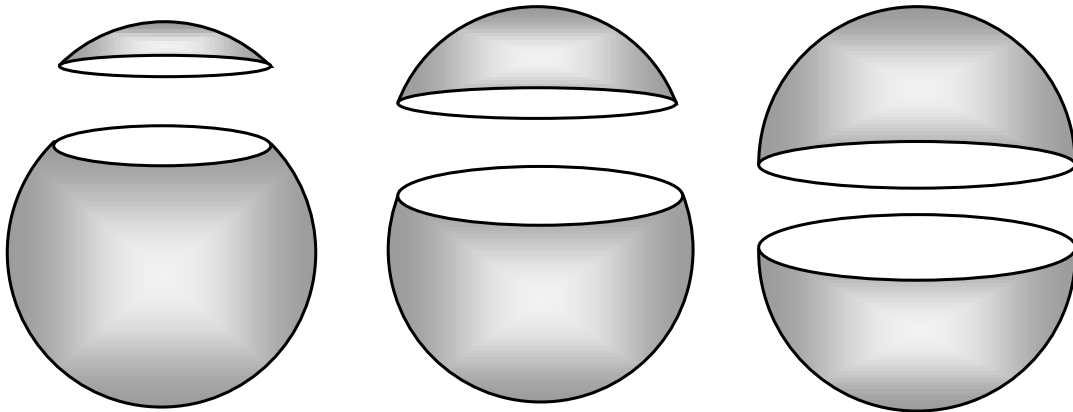
年 組 番 名前

れんしゅう

下の図は、球をまん中で半分に切ったところです。( )にあうことばを書きましょう

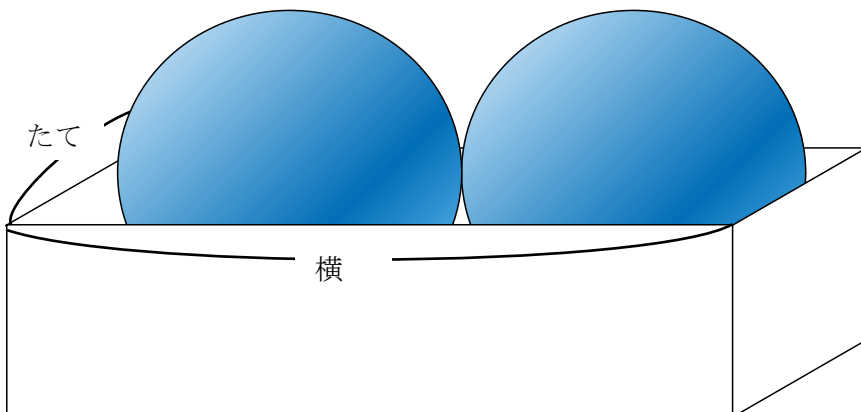


下の図のように球を切ったとき、切り口は、いつもどんな形をしていますか。



( 円 )

下の図のように、箱の中に直径3 cmの球がぴったりとはいっています。箱の内側のたてと横の長さをもとめましょう。



たて( 3 )cm

横 ( 6 )cm