

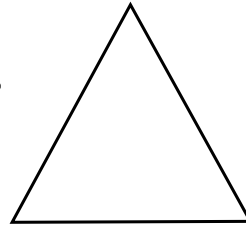
8

正三角形と二等辺三角形(1)→2へ

年 組 番 名前 _____

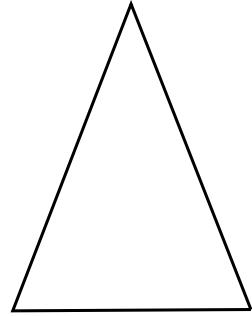
〈正三角形〉

3つの辺の長さが等しい三角形を正三角形という。




〈二等辺三角形〉

2つの辺の長さが等しい三角形を二等辺三角形という。



練習 1

下の㉠～㉧の図形の中で、正三角形、二等辺三角形はどれですか。()に記号で答えましょう。



正三角形(㉤ ㉦ ㉨)

二等辺三角形(㉠ ㉢ ㉣)