


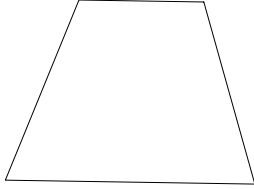
# 16

## 台形

→15へ


年 組 番 名前

〈台形〉向かい合った一組の辺が平行な四角形を台形という。



### 練習 1

下の方がんを使って、台形を2つかきましょう。



次の図のような台形をかきましょう。

