

# 17

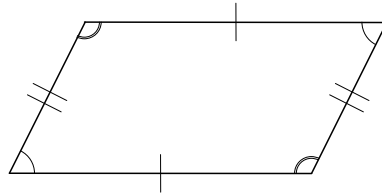
## 平行四辺形(1)

→16へ

年 組 番 名前

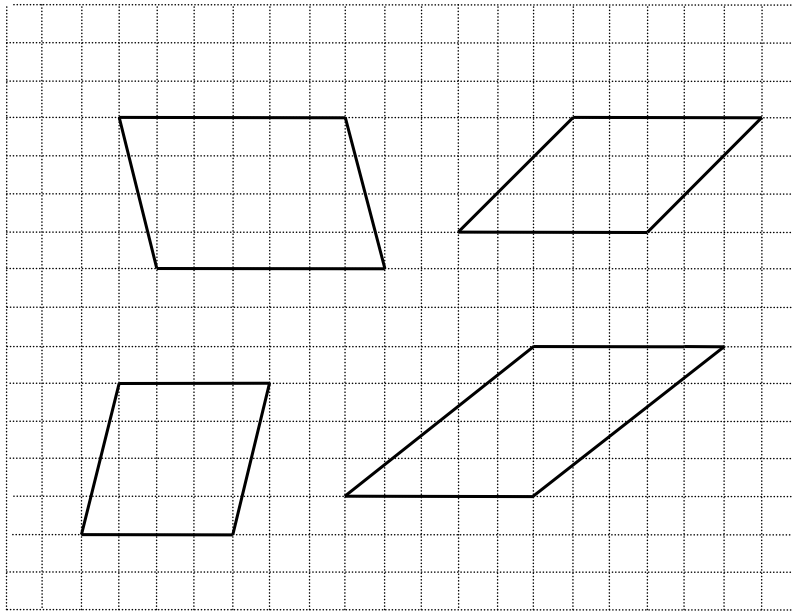
〈平行四辺形のせいしつ〉

- 向かい合った2組の辺が平行
- 向かい合った角の大きさが等しい
- 向かい合った2組の辺の長さが等しい



### 練習1

下の方がんに平行四辺形をとちゅうまでかいています。つづきをかきましょう。



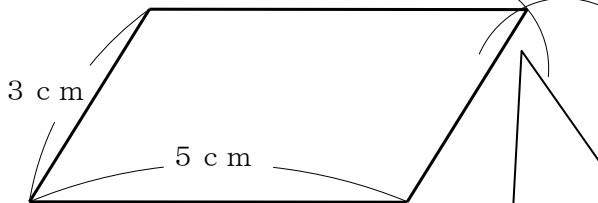
### 練習2

ものさしと、下に指定した道具を使って、平行四辺形のつづきをかきましょう。

①コンパスを使って

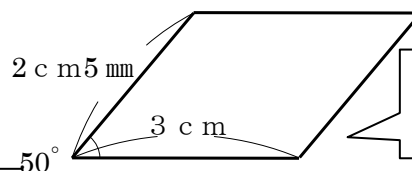
②三角じょうぎを使って

①コンパスを5 cm開き、印をつける。



②コンパスを3 cm開き、印をつける。印の交わっているところを直線でむすぶ。

①三角じょうぎを使って、向かい合った辺(3 cm)をかく。



②三角じょうぎを使って、向かい合った辺(2 cm 5 mm)をかく。