

# 19

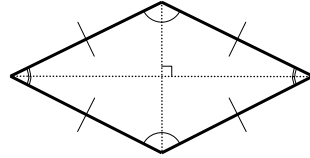
## ひし形(1)

→18へ

年 組 番 名前

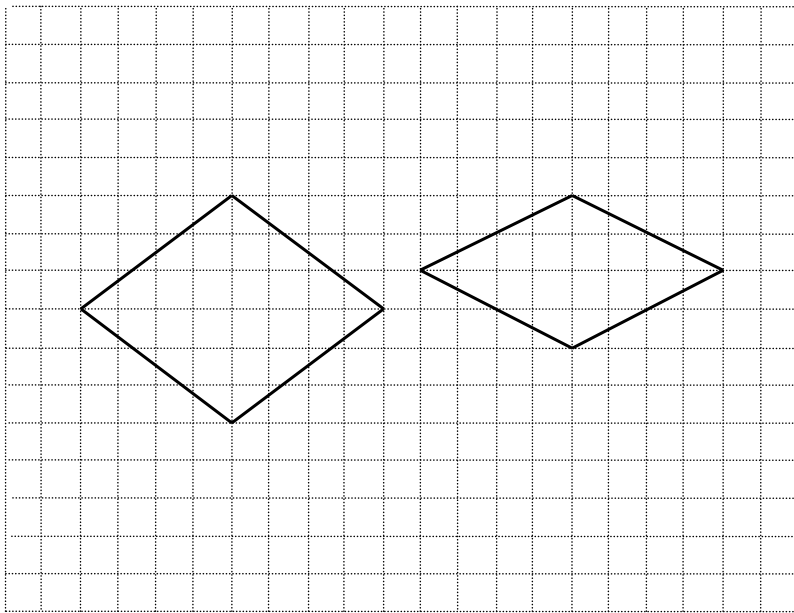
〈ひし形のせいしつ〉

- 4つの辺の長さがみな等しい
- 向かい合った角の大きさは等しい
- 対角線は垂直に交わる



### 練習 1

下の方がんにひし形をとちゅうまでかいています。つづきをかきましょう。



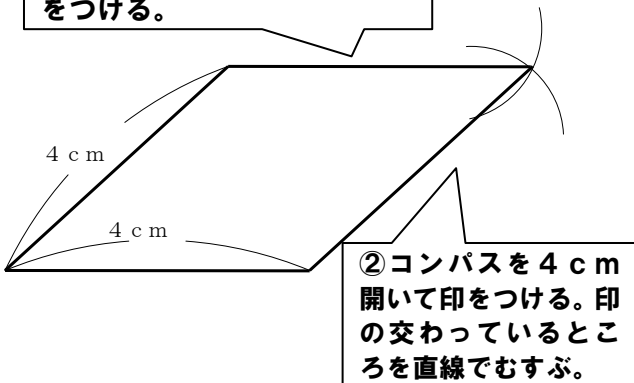
### 練習 2

ものさしと、下に指定した道具を使って、ひし形のつづきをかきましょう。

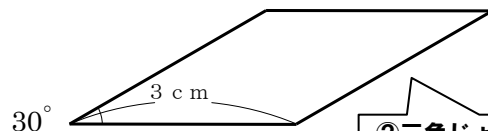
①コンパスを使って

②三角じょうぎを使って

①コンパスを4 cm開いて印をつける。



①三角じょうぎを使って、向かい合った辺(3 cm)をかく。



②三角じょうぎを使って、向かい合った辺(3 cm)をかく。