


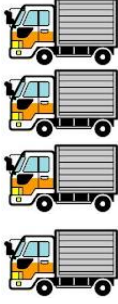




2

ひょう・グラフと時計

→ 1へ

ねん くみ ばん なまえ

れんしゅう どうろをとった のりもの^{かず}の数を せいりしましょう。
のりものしらべ

					
車	トラック	パトカー	しょうぼう車	バイク	じてん車

①ひょうに 数字を かきましょう。

すきな のりもの	車	トラック	パトカー	しょうぼう車	バイク	じてん車
だいすう 台数 (台)						

②○をつかって グラフに かきましょう。

車	トラック	パトカー	しょうぼう車	バイク	じてん車

③いちばん おおくとった のりものを かきましょう。

④とった数が おなじのりものを 2つ かきましょう。

と