





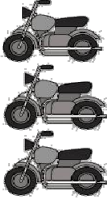

2

ひょう・グラフと時計

→ 1へ

ねん くみ ばん なまえ

れんしゅう どうろをとおった のりものの^{かず}数を せいりしましょう。
のりものしらべ

					
車	トラック	パトカー	しょうぼう車	バイク	じてん車

①ひょうに 数字を かきましょう。

すきな のりもの	車	トラック	パトカー	しょうぼう車	バイク	じてん車
だいすう 台数 (台)	7	4	6	2	3	6

②○をつかって グラフに かきましょう。

○					
○		○			○
○		○			○
○	○	○			○
○	○	○		○	○
○	○	○	○	○	○
○	○	○	○	○	○
車	トラック	パトカー	しょうぼう車	バイク	じてん車

③いちばん おおくとおった のりものを かきましょう。

車

④とおった数が おなじのりものを 2つ かきましょう。

パトカー と じてん車