

# 7

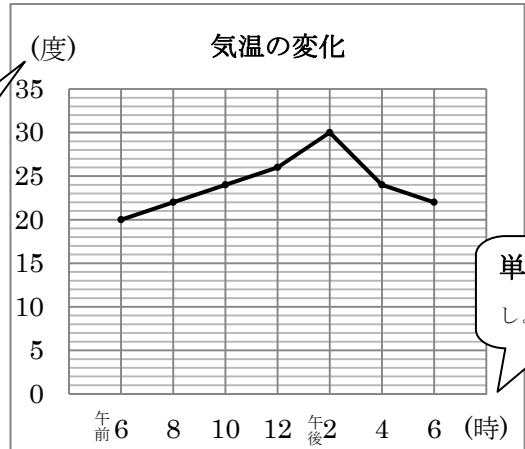
## 折れ線グラフ

年 組 番 名前

右のようなグラフをおせん折れ線グラフといいます。

- ・たての目もりは気温を表しています。
- ・横の目もりは時間を表しています。
- ・折れ線グラフは線のかたむきぐあいで、  
変わり方のようすがわかります。

単位に注目  
しよう!!



単位に注目  
しよう!!

練習1 次の折れ線グラフを見て答えましょう。

① 右のグラフは何を表したのですか。

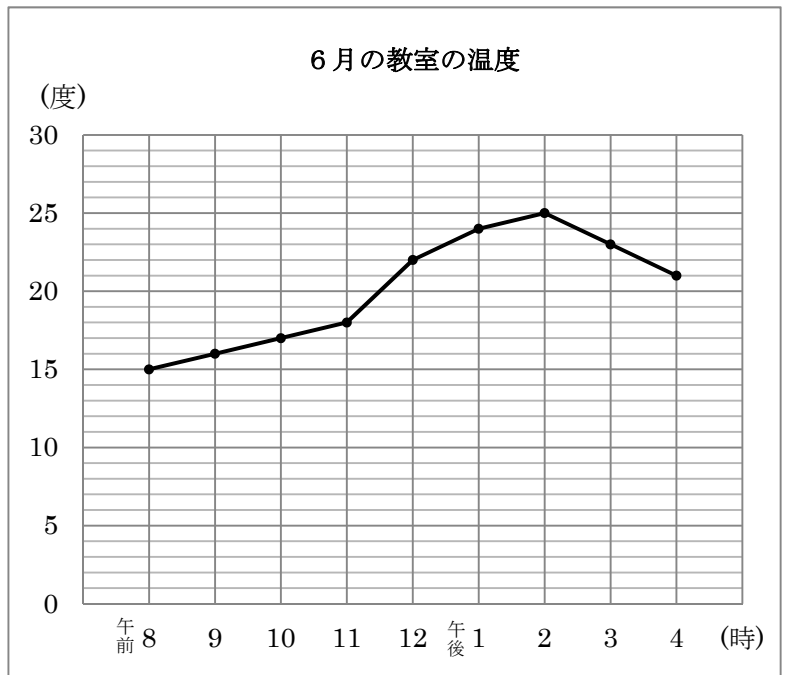
( )

② 右のグラフのたての目もりは何を表していますか。

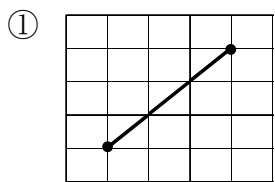
( )

③ 右のグラフのよこの目もりは何を表していますか。

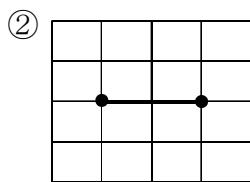
( )



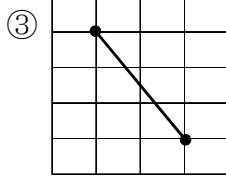
練習2 折れ線グラフの線のかたむきについて、①～⑤に合うものを、ア～オからえらんで ( ) に書きましょう。



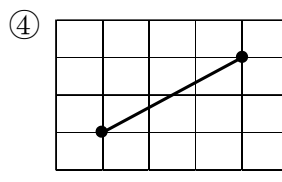
( )



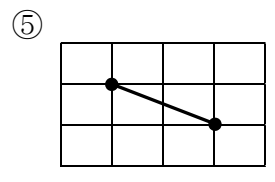
( )



( )



( )



( )

ア…ふえている    イ…へっている    ウ…変わらない