

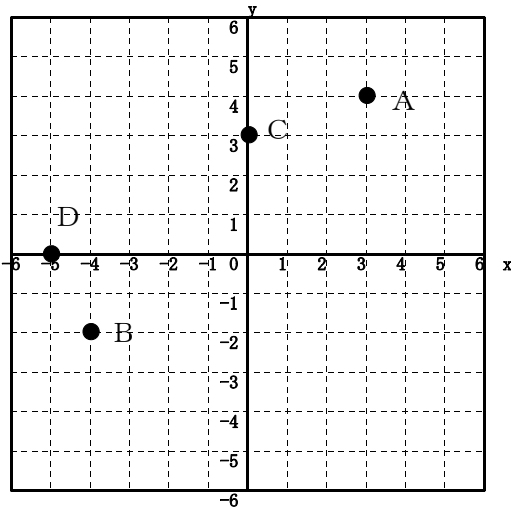
37

座標と比例のグラフ

年 組 番 名前

● 例題 ●

下の図で、A、B、Cの座標をいいなさい。



A(3 , 4)

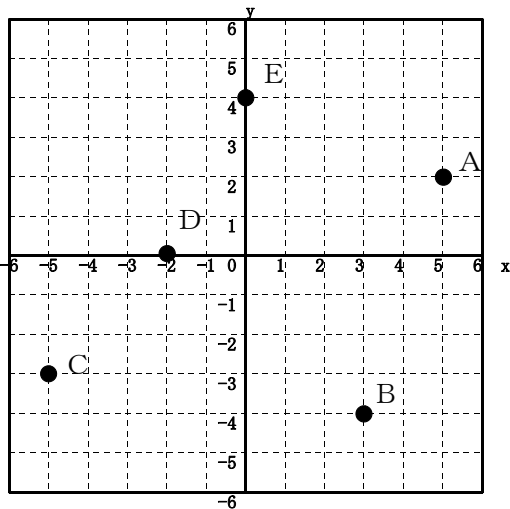
B(-4 , -2)

C(0 , 3)

D(-5 , 0)

→ 27へ

問1 下の図で、A、B、C、D、Eの座標をいいなさい。



A(,)

B(,)

C(,)

D(,)

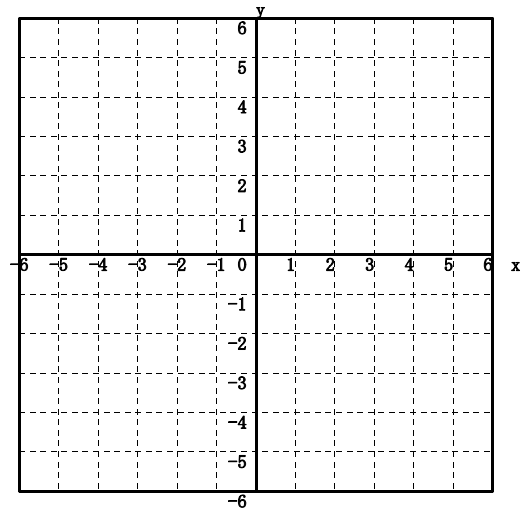
E(,)

問2 下の図に次の点をかきいれなさい。

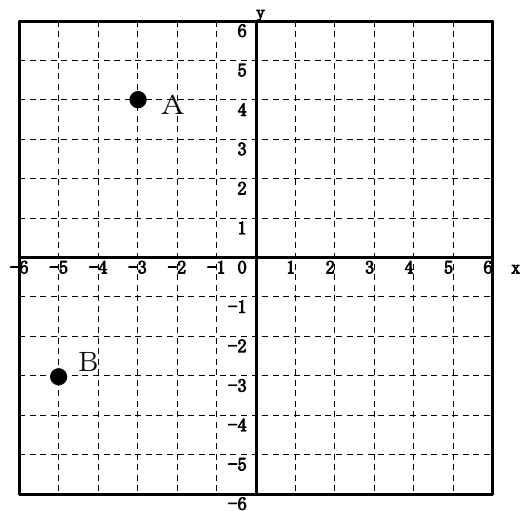
A(5 , 2) B(-3 , -4)

C(4 , -3) D(-4 , 0)

E(0 , 3)



問3 下の図について次の問いに答えなさい。



(1) 点Aの座標をいいなさい。

A(,)

(2) 上の図にC(3 , -3)の点をかきいれなさい。

(3) 3点A、B、Cを頂点とする三角形の面積を求めなさい。ただし、1目盛りを1cmとする。