

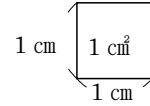
1

正方形・長方形の面積(1)

年 組 番 名前

広さのことを面積と言います。

面積は、1辺が1cmの正方形がいくつ分あるかで表します。



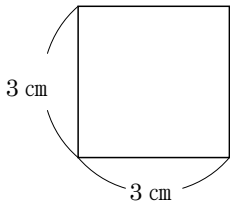
1辺が1cmの正方形の面積を 1 cm^2 (1平方センチメートル) と言います。

1辺が1mの正方形の面積を 1 m^2 (1平方メートル) と言います。

正方形の面積を求める公式
正方形の面積 = 一辺 × 一辺

長方形の面積を求める公式
長方形の面積 = たて × 横

例

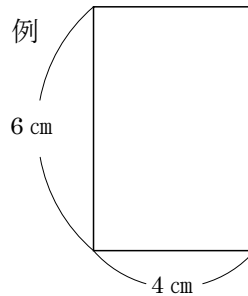


式

$$3 \times 3 = 9$$

答え 9 cm^2

例



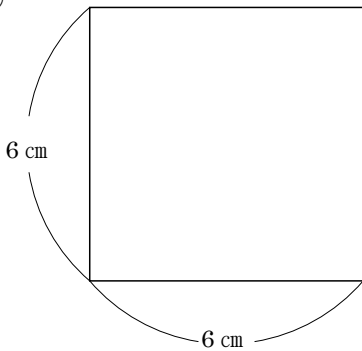
式

$$6 \times 4 = 24$$

答え 24 cm^2

練習 次の図形の面積を求めましょう。

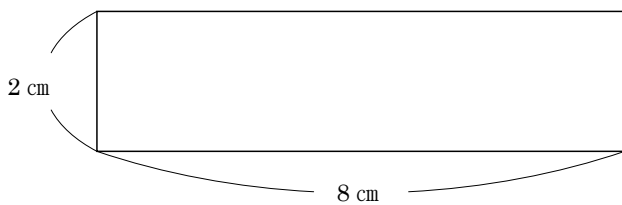
①



式

答え _____

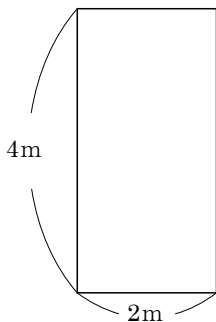
②



式

答え _____

③



式

答え _____