

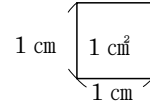
1

正方形・長方形の面積(1)

年 組 番 名前

広さのことを面積と言います。

面積は、1辺が1cmの正方形がいくつ分あるかで表します。



1辺が1cmの正方形の面積を1cm²(1平方センチメートル)と言い、

1辺が1mの正方形の面積を1m²(1平方メートル)と言います。

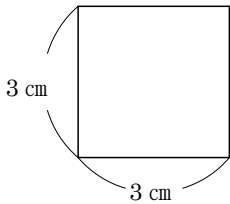
正方形の面積を求める公式

正方形の面積=一辺×一辺

長方形の面積を求める公式

長方形の面積=たて×横

例

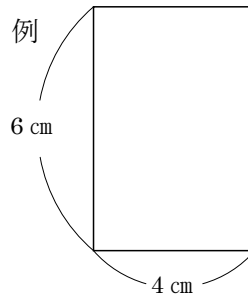


式

$$3 \times 3 = 9$$

答え 9 cm²

例



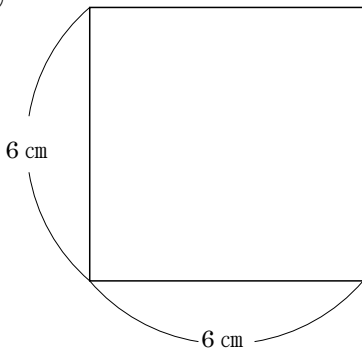
式

$$6 \times 4 = 24$$

答え 24 cm²

練習 次の図形の面積を求めましょう。

①

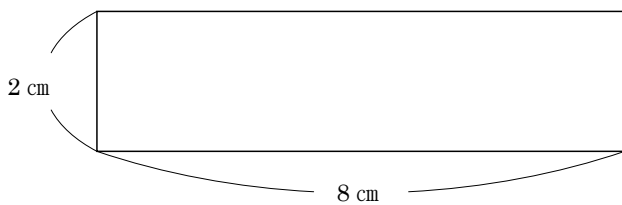


式

$$6 \times 6 = 36$$

答え 36 cm²

②

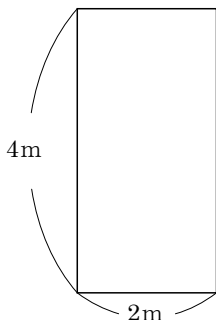


式

$$2 \times 8 = 16$$

答え 16 cm²

③



式

$$4 \times 2 = 8$$

答え 8 m²