

2

正方形・長方形の面積(2) → 1へ

年 組 番 名前

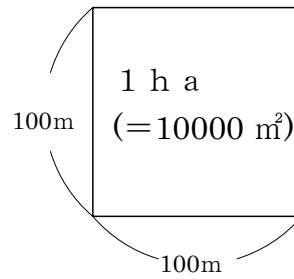
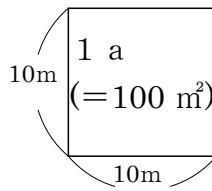
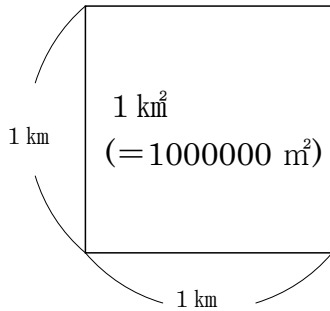
・大きな面積

1辺が1 kmの正方形の面積を **1 km²** (1平方キロメートル) と言います。

・アールとヘクタール

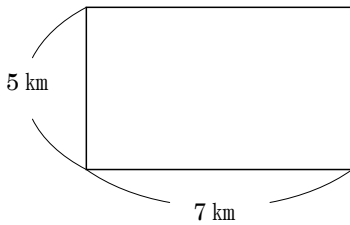
1辺が10 mの正方形の面積を **1 a** (1アール) と言い、

1辺が100 mの正方形の面積を **1 ha** (1ヘクタール) と言います。



練習 次の図形の面積を[]の中の単位で求めましょう。

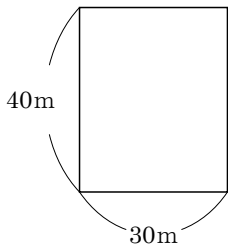
①[km²]



式

答え _____

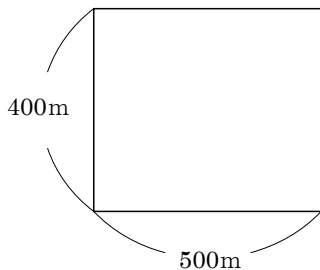
②[a]



式

答え _____

②[h a]



式

答え _____