

2

正方形・長方形の面積 (2) → 1へ

年 組 番 名前

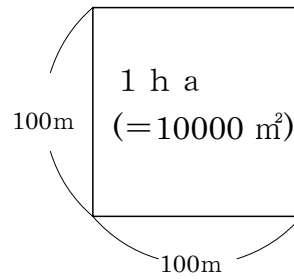
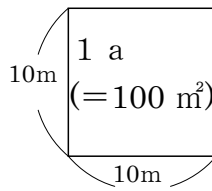
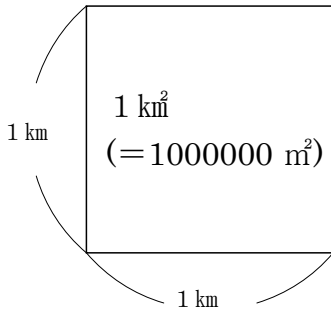
・大きな面積

1辺が1 kmの正方形の面積を1 km² (1平方キロメートル) と言います。

・アールとヘクタール

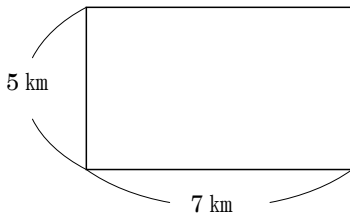
1辺が10 mの正方形の面積を1 a (1アール) と言い、

1辺が100 mの正方形の面積を1 ha (1ヘクタール) と言います。



練習 次の図形の面積を[]の中の単位で求めましょう。

①[km²]

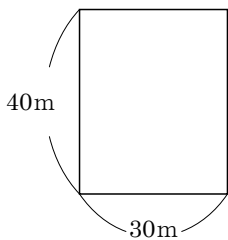


式

$$5 \times 7 = 35$$

答え 35 km²

②[a]



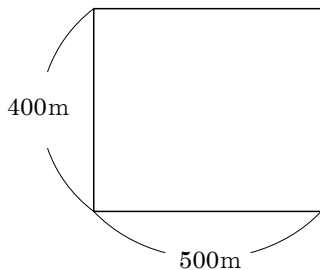
式

1 a = 100 m²だから

$$4 \times 3 = 12$$

答え 12 a

②[ha]



式

1 ha = 10000 m²だから

$$4 \times 5 = 20$$

答え 20 ha