

4

三角形の面積(1)

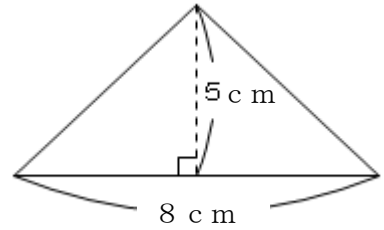
年 組 番 名前

(三角形の面積)

三角形の面積は底辺×高さ÷2で求めることができます。

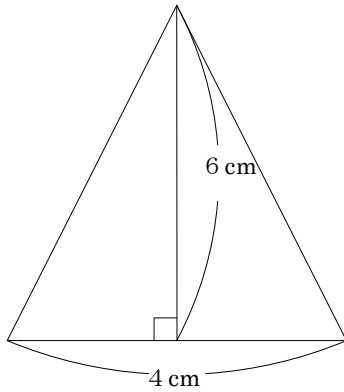
式 $8 \times 5 \div 2 = 20$

答え 20 cm^2



練習 次の三角形の面積を求めましょう。

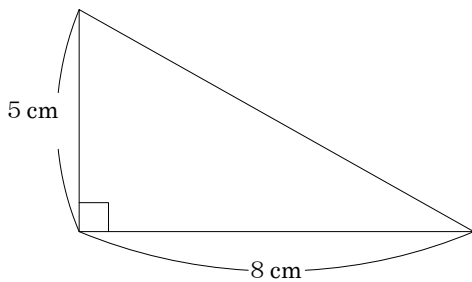
①



式

答え _____

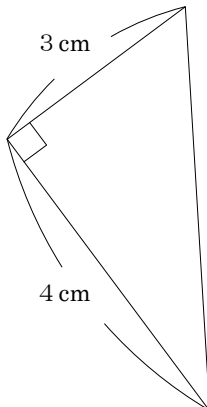
②



式

答え _____

③



式

答え _____