

4

三角形の面積(1)

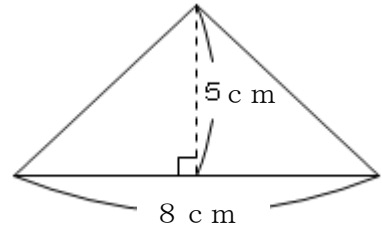
年 組 番 名前

(三角形の面積)

三角形の面積は底辺×高さ÷2で求めることができます。

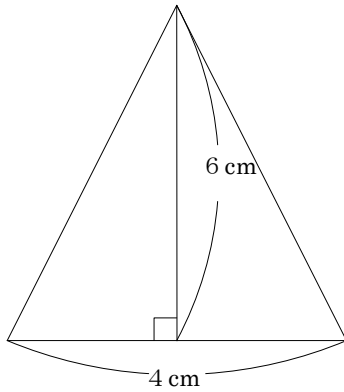
式 $8 \times 5 \div 2 = 20$

答え 20 cm^2



練習 次の三角形の面積を求めましょう。

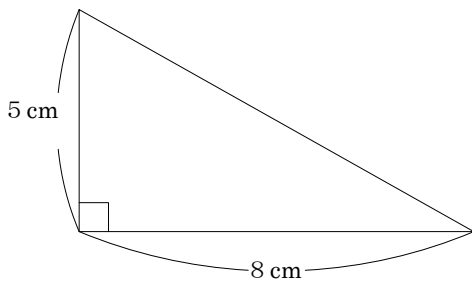
①



式 $4 \times 6 \div 2 = 12$

答え 12 cm²

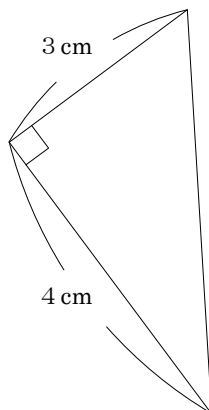
②



式 $8 \times 5 \div 2 = 20$

答え 20 cm²

③



式 $4 \times 3 \div 2 = 6$

答え 6 cm²