

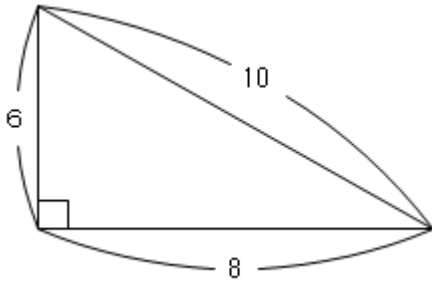
# 5

## 三角形の面積 (2) → 4 へ

年 組 番 名前

練習 次の三角形の面積を求めましょう。単位は cm です。

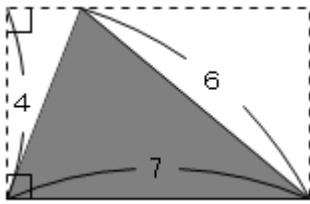
①



式

答え \_\_\_\_\_

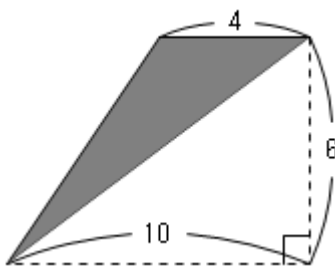
②



式

答え \_\_\_\_\_

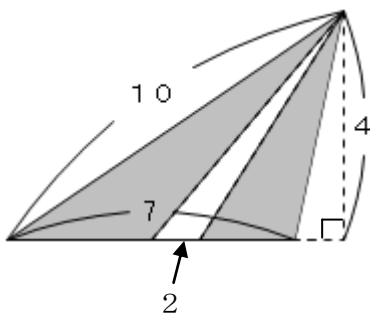
③



式

答え \_\_\_\_\_

④ 色のついた部分の面積を求めましょう。 式



答え \_\_\_\_\_