

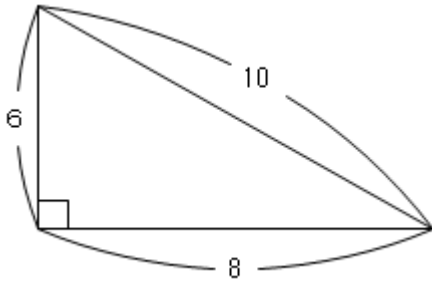
5

三角形の面積 (2) → 4へ

年 組 番 名前

練習 次の三角形の面積を求めましょう。単位はcmです。

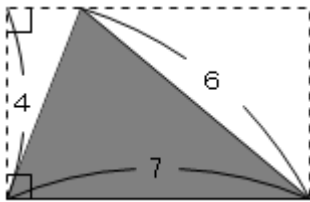
①



式 $8 \times 6 \div 2 = 24$

答え 24 cm²

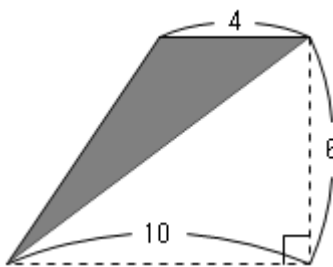
②



式 $7 \times 4 \div 2 = 14$

答え 14 cm²

③



式 $4 \times 6 \div 2 = 12$

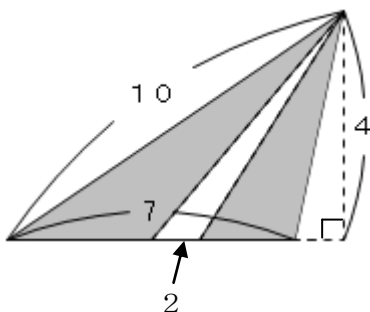
答え 12 cm²

④ 色のついた部分の面積を求めましょう。

式 $7 \times 4 \div 2 = 14$

$2 \times 4 \div 2 = 4$

$14 - 4 = 10$



答え 10 cm²