

6

平行四辺形の面積（1）

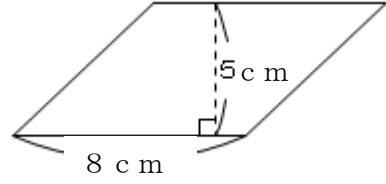
年 組 番 名前

（平行四辺形の面積）

平行四辺形の面積は底辺×高さで求めることができます。

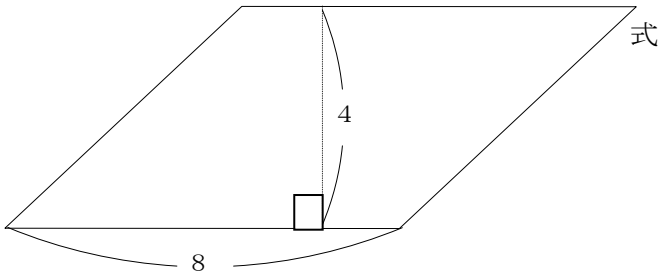
式 $8 \times 5 = 40$

答え 40 cm^2



練習 次の平行四辺形の面積を求めましょう。単位はcmです。

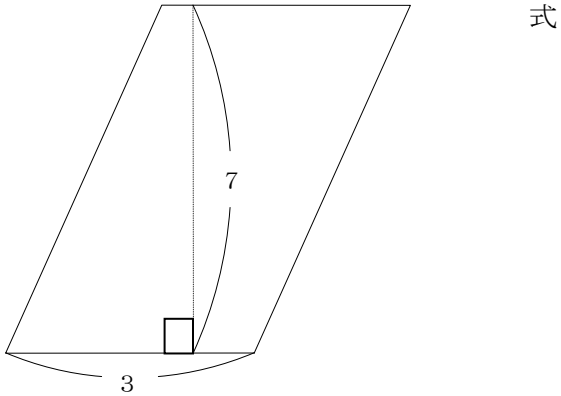
①



式

答え

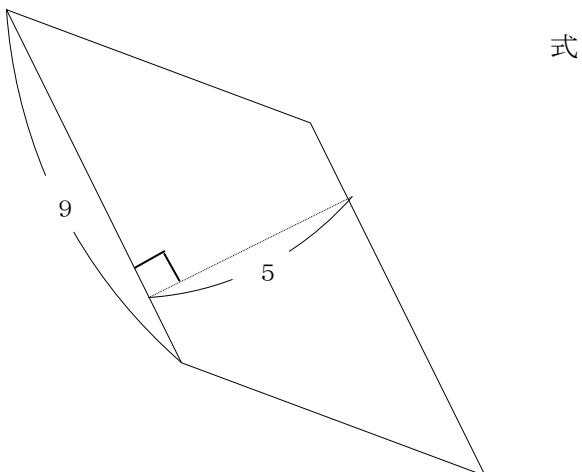
②



式

答え

③



式

答え