

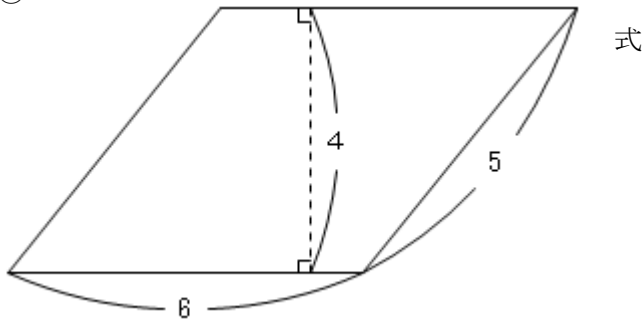
# 7

## 平行四辺形の面積 (2) →6へ

年 組 番 名前

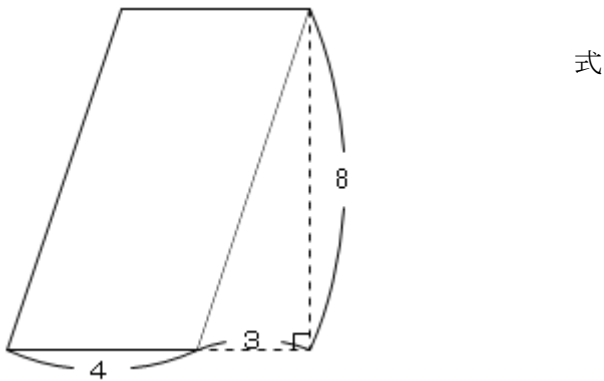
練習 次の平行四辺形の面積を求めましょう。単位はcmです。

①



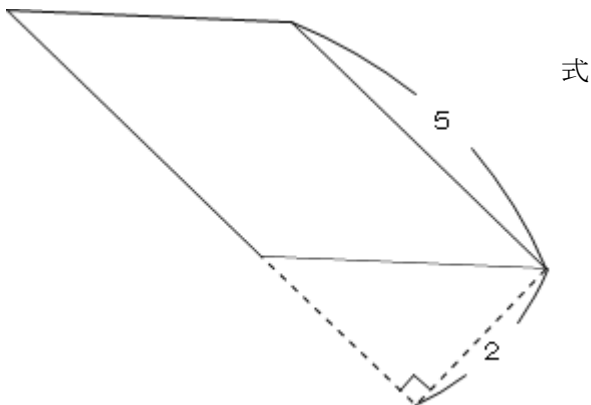
答え \_\_\_\_\_

②



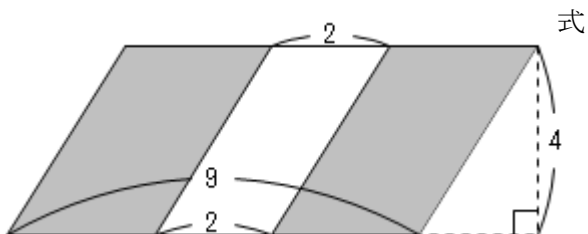
答え \_\_\_\_\_

③



答え \_\_\_\_\_

④ 色のついた部分の面積を求めましょう。



答え \_\_\_\_\_