

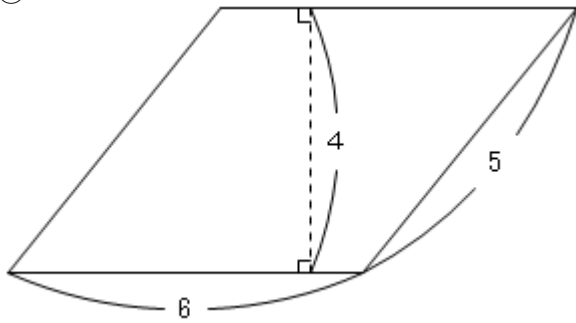
# 7

## 平行四辺形の面積 (2) → 6へ

年 組 番 名前

練習 次の平行四辺形の面積を求めましょう。単位はcmです。

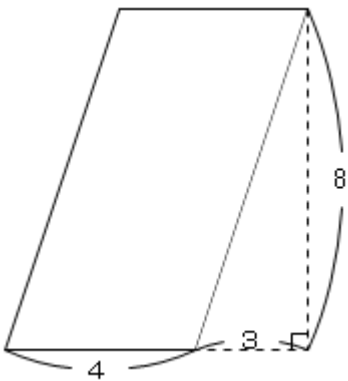
①



式  $6 \times 4 = 24$

答え 24 cm<sup>2</sup>

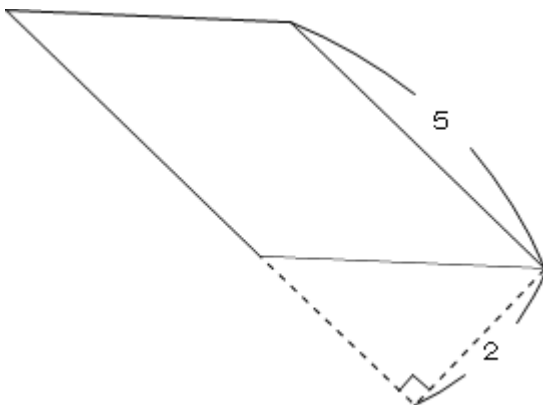
②



式  $4 \times 8 = 32$

答え 32 cm<sup>2</sup>

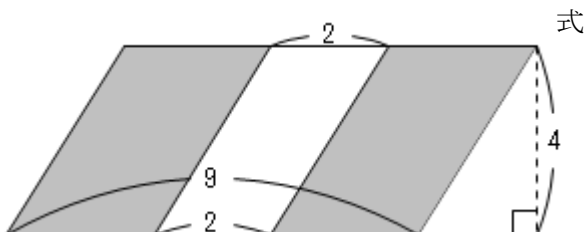
③



式  $5 \times 2 = 10$

答え 10 cm<sup>2</sup>

④ 色のついた部分の面積を求めましょう。



式  $9 \times 4 = 36$   
 $2 \times 4 = 8$   
 $36 - 8 = 28$

答え 28 cm<sup>2</sup>