

11

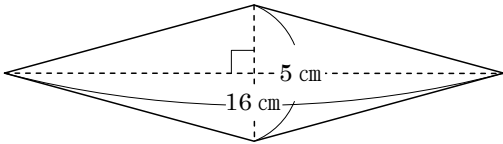
ひし形の面積 (2) →10へ

年 組 番 名前

練習 次の図形の面積を求めましょう。

①

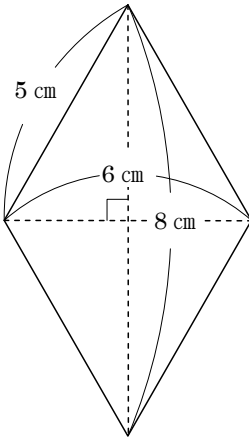
式



答え _____

②

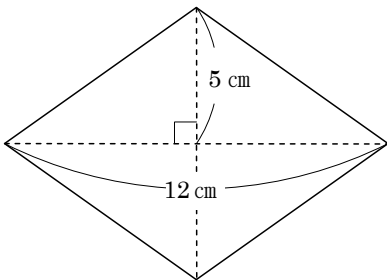
式



答え _____

③

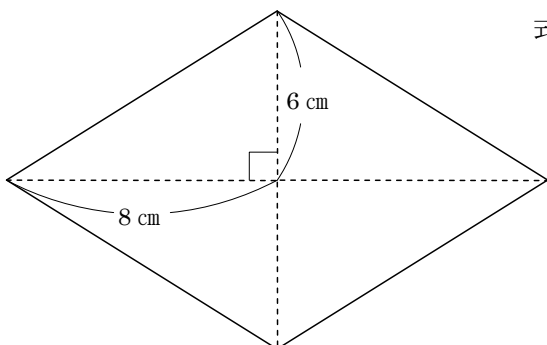
式



答え _____

④

式



答え _____