

# 11

## ひし形の面積 (2) →10へ

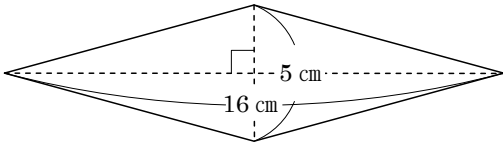
年 組 番 名前

練習 次の図形の面積を求めましょう。

①

式

$$16 \times 5 \div 2 = 40$$

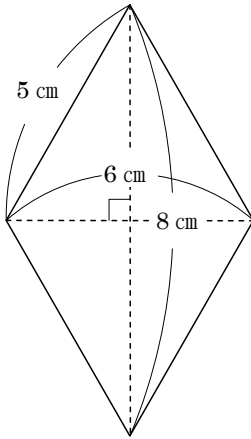


答え 40 cm<sup>2</sup>

②

式

$$6 \times 8 \div 2 = 24$$

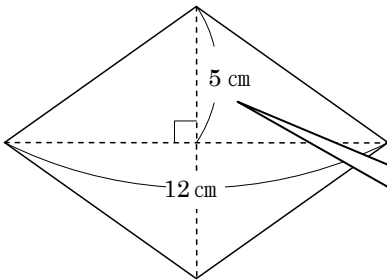


答え 24 cm<sup>2</sup>

③

式

$$12 \times 10 \div 2 = 60$$



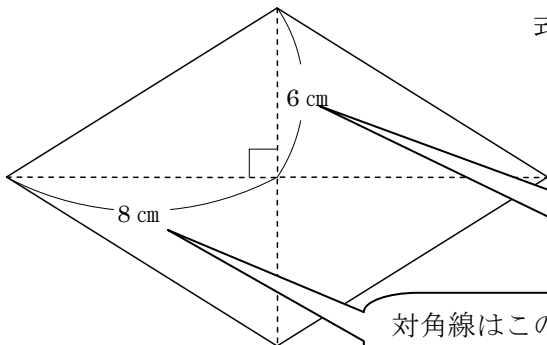
対角線はこの 2 倍だから、 $5 \times 2 = 10$  cm

答え 60 cm<sup>2</sup>

④

式

$$16 \times 12 \div 2 = 96$$



対角線はこの 2 倍だから、 $6 \times 2 = 12$  cm

対角線はこの 2 倍だから、 $8 \times 2 = 16$  cm

答え 96 cm<sup>2</sup>