

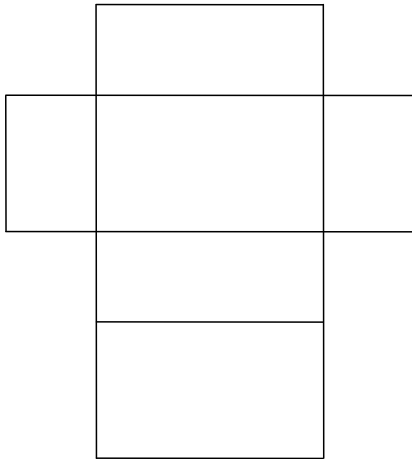
# 24

## 角柱と円柱 (3) →22・23へ

年 組 番 名前


練習 下の展開図を組み立てると、どんな立体ができるでしょうか。立体の名前を ( ) に書き入れましょう。

(1)



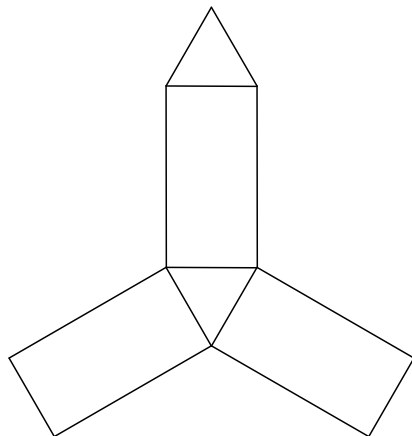
( 直方体 (四角柱) )

(2)



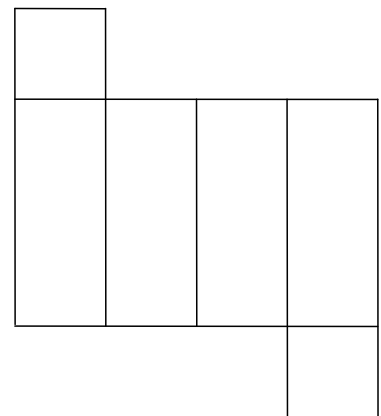
( 立方体 (四角柱) )

(3)



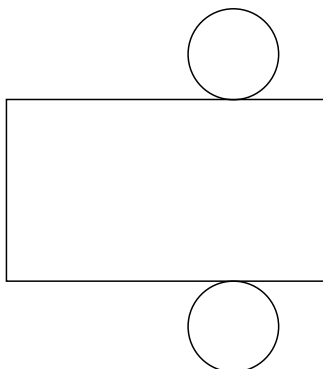
( 三角柱 )

(4)



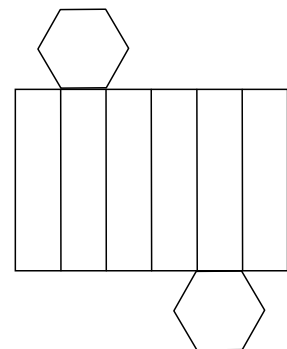
( 四角柱 (直方体) )

(5)



( 円柱 )

(6)



( 六角柱 )