

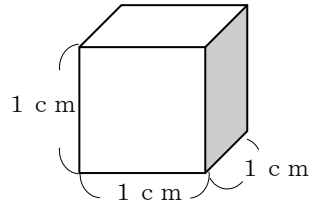
# 28

## 直方体・立方体の体積（1）

年 組 番 名前

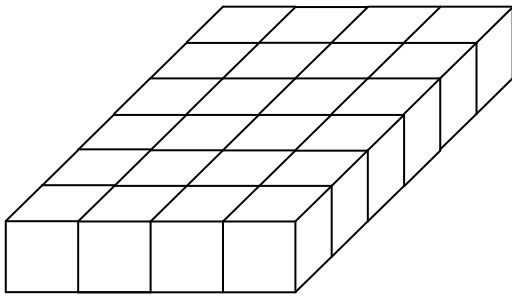
（1 cm<sup>3</sup>について）

一辺が1 cmの立方体の体積のことを1 cm<sup>3</sup>といいます。



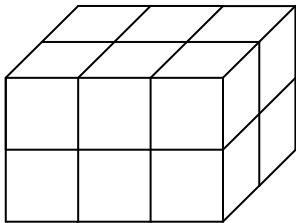
1 cm<sup>3</sup>の立方体のつみきで、次のような形を作りました。全体の体積は何cm<sup>3</sup>でしょうか。

(1)



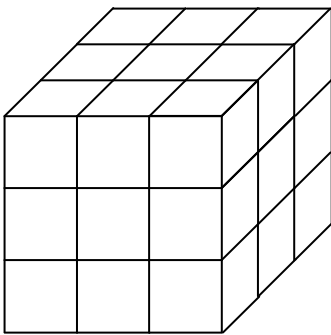
答え \_\_\_\_\_

(3)



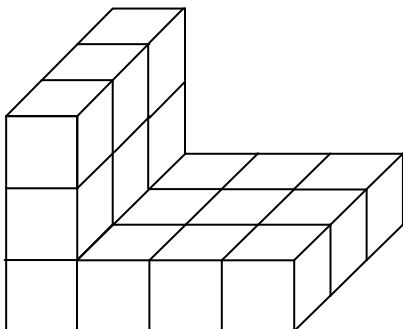
答え \_\_\_\_\_

(4)



答え \_\_\_\_\_

(5)



答え \_\_\_\_\_