

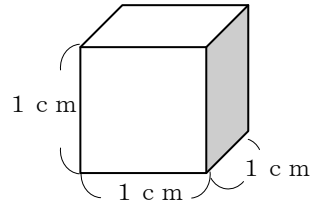
28

直方体・立方体の体積（1）

年 組 番 名前

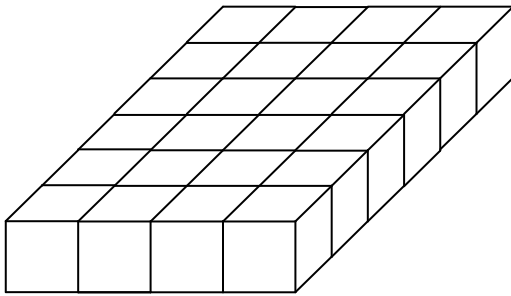
（ 1 cm^3 について）

一辺が 1 cm の立方体の体積のことを 1 cm^3 といいます。



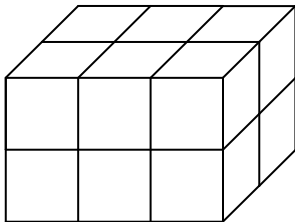
1 cm^3 の立方体の積みきで、次のような形を作りました。全体の体積は何 cm^3 でしょうか。

(1)



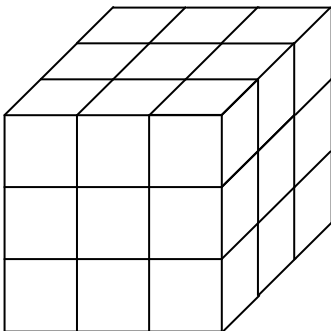
答え 24 cm^3

(3)



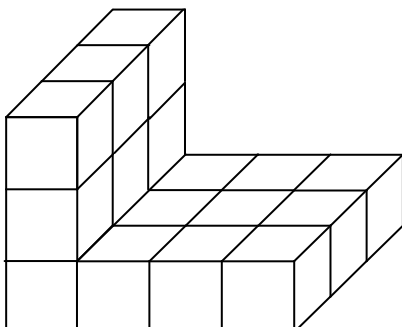
答え 12 cm^3

(4)



答え 27 cm^3

(5)



答え 18 cm^3