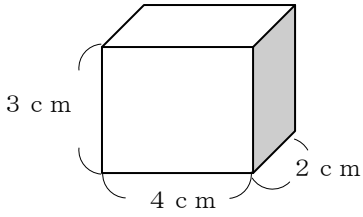


29

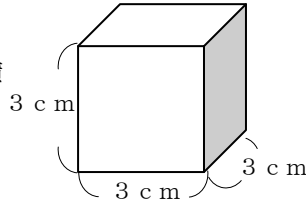
直方体・立方体の体積 (2) →28へ

年 組 番 名前

(体積の求め方)



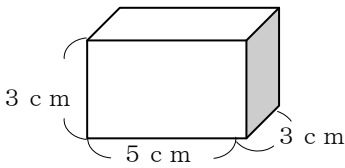
直方体
縦×横×高さ=体積
 $2 \times 4 \times 3 = 24$
答え 24 cm^3



立方体
一辺×一辺×一辺=体積
 $3 \times 3 \times 3 = 27$
答え 27 cm^3

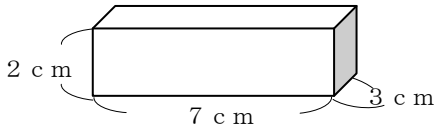
練習 次の直方体や立方体の体積を求めましょう。

(1) 式



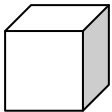
答え _____

(2) 式



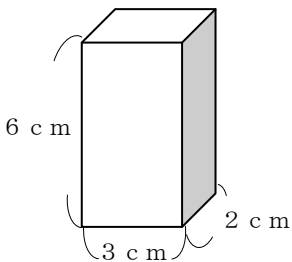
答え _____

(3) 1辺が2 cmの立方体 式



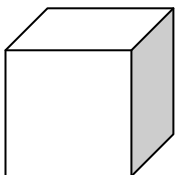
答え _____

(4) 式



答え _____

(5) 1辺が5 cmの立方体 式



答え _____