

34

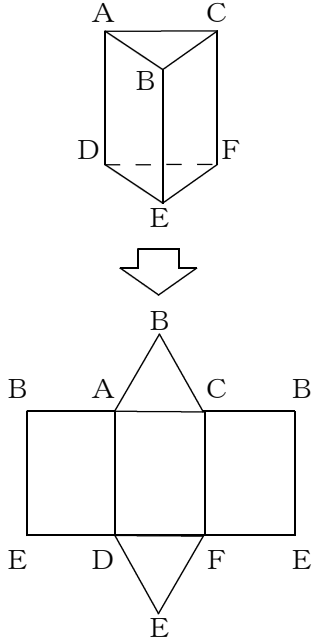
展開図

→24, 26, 27へ

年 組 番 名前

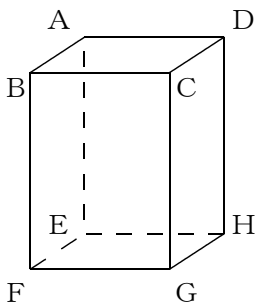
● 例題 1 ●

問. 次の立体の展開図をかきなさい。

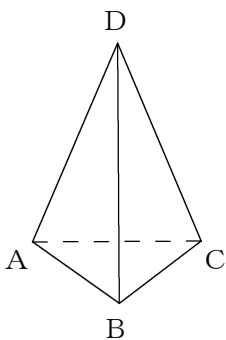


問1 次の立体の展開図をかき、(1) (2) については頂点の記号もかき入れなさい。

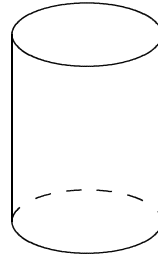
(1)



(2)

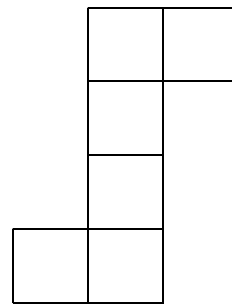


(3)



問2 次の展開図で表される立体の名前と見取図をかきなさい。

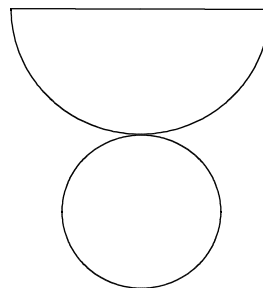
(1)



※正方形の全ての辺の長さは等しい。

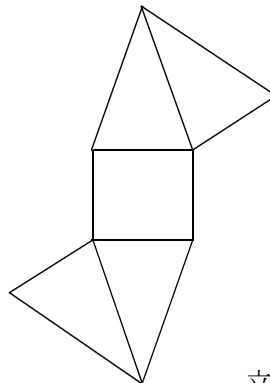
立体名 ()

(2)



立体名 ()

(3)



立体名 ()