

# 34

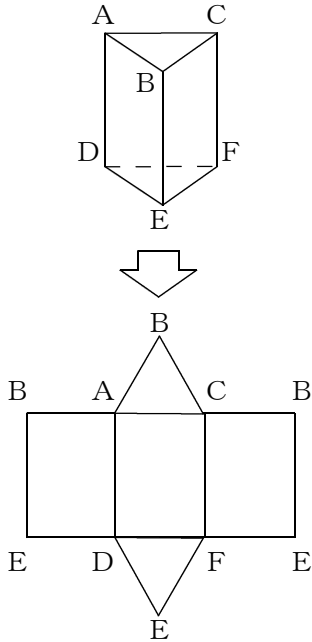
## 展開図

→24, 26, 27へ

年 組 番 名前

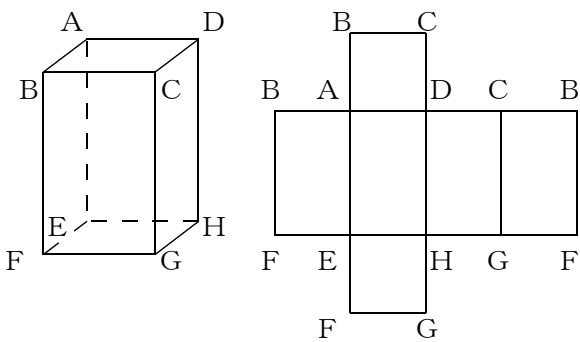
### ● 例題 1 ●

問. 次の立体の展開図をかきなさい。

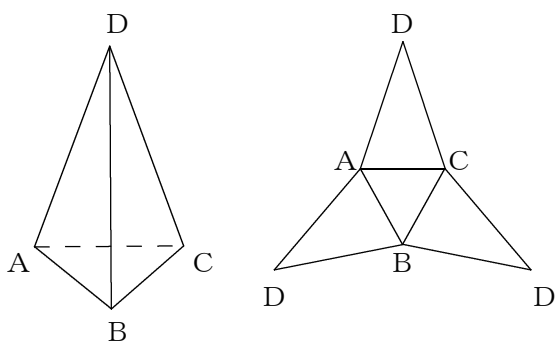


問1 次の立体の展開図をかき、(1) (2) については頂点の記号もかき入れなさい。

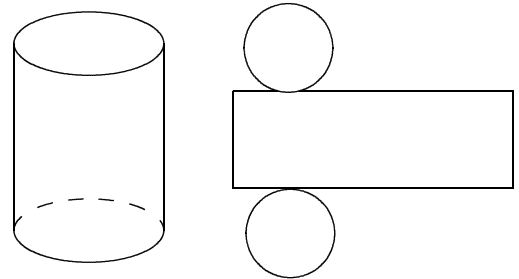
(1)



(2)

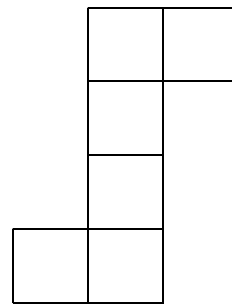


(3)

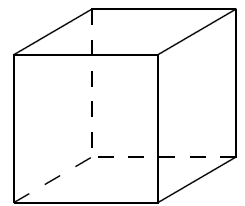


問2 次の展開図で表される立体の名前と見取図をかきなさい。

(1)

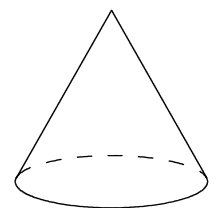
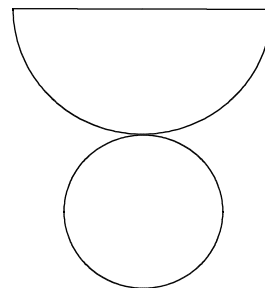


※正方形の全ての辺の長さは等しい。



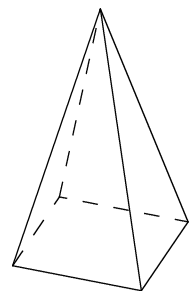
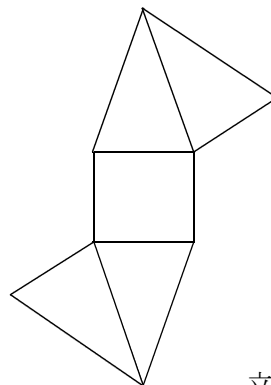
立体名 ( 立方体 )

(2)



立体名 ( 円錐 )

(3)



立体名 ( 四角錐 )